

КАД СУ ЉУТИ СВИ НА МЕНЕ,
ЗАБОРАВИМ ЈА ПРОБЛЕМЕ,
ОГЛЕДАЛЦЕ ЗНАЊА ТУ ЈЕ,
ОНО СВИМА ПОРУЧУЈЕ:

"ЗА УЧЕЊЕ САД ЈЕ ЧАС,
СТИЖЕМ ДЕЦО ЈА ДО ВАС!"

ОКОЛИНУ УПОЗНАЈТЕ,
НЕШТО НОВО ВИ САЗНАЈТЕ.

КО ТО ЧИНИ ПОРОДИЦУ?
КАКО ПРЕЋИ САД УЛИЦУ?
ШТА ЈЕ ЖИВО, А ШТА НЕ?
ОГЛЕДАЛЦЕ КРИЈЕ СВЕ!





СРБИЈА - НАША ДРЖАВА



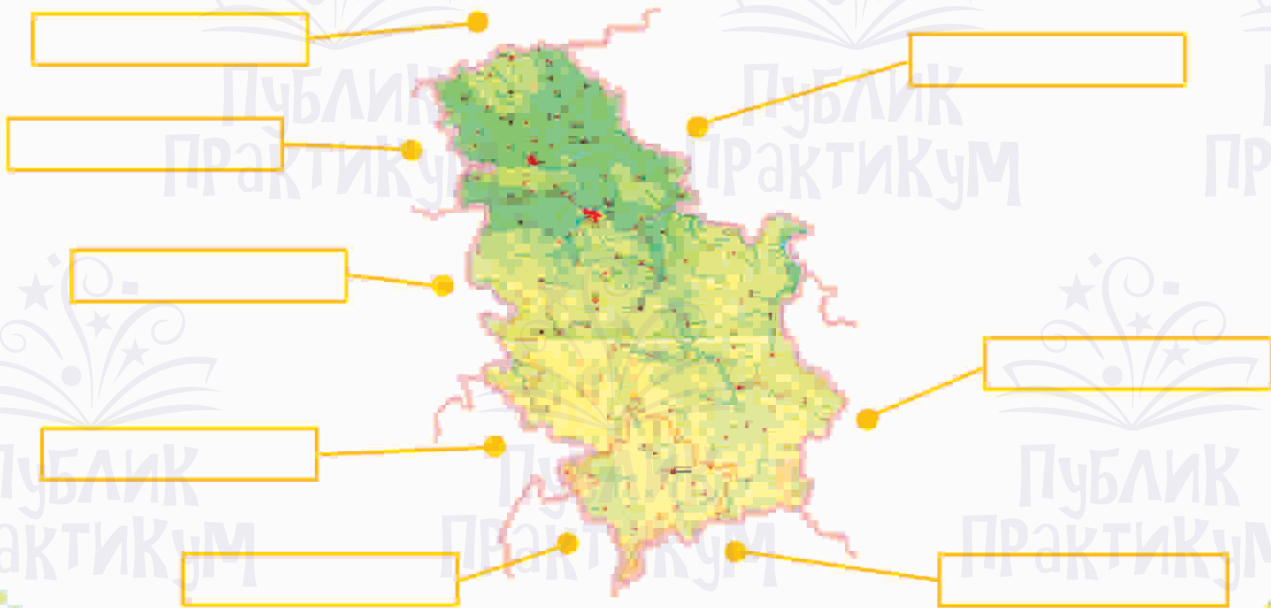
1 Црвеном бојом обој територију Републике Србије.



2 Где се налази Република Србија?

3 Допуни реченице:
У оквиру Републике Србије налазе се _____ покрајине. То су _____ и _____.

4 Напиши називе држава наших суседа.



5 Заокружи слово испред тачног одговора.

Главни град Републике Србије је:

- а) Нови Сад
- б) Приштина

- в) Београд
- г) Крушевац

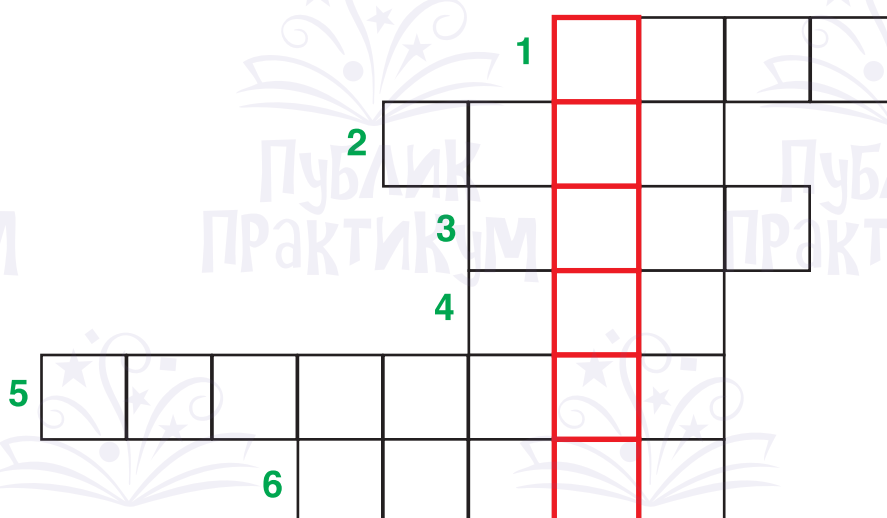
6 Зашто је Дунав међународна река?

7 Зашто се каже да је Србија раскрсница путева?

8 Заокружи ДА ако је одговор тачан, односно НЕ ако одговор није тачан.

- Река Дунав је друга по дужини у Европи. ДА НЕ
- Долином Велике и Јужне Мораве воде велике саобраћајнице. ДА НЕ
- Србија излази на Јадранско море. ДА НЕ
- Словенија се граничи са Републиком Србијом. ДА НЕ

9 Реши укрштеницу.



1 - мање насеље

2 - планина у Србији

3 - река у Србији

4 - град у долини реке Нишаве

5 - један наш сусед

6 - највећа водена површина



СИМБОЛИ ДРЖАВЕ СРБИЈЕ



1 Стрелицама повежи речи и њихово објашњење.

ТЕРИТОРИЈА ДРЖАВЕ

Обележја којима је држава приказана у свету.

ГРАНИЦА

Ограничен копнени и ваздушни простор.


ДРЖАВНИ СИМБОЛИ

Линија која одваја територију једне државе од суседних држава.

РЕПУБЛИКА

Држава у којој власт припада народу.

2 У означен простор упиши називе делова грба и обој заставу Републике Србије.



свечани грб



3 Када се пева химна?

Како се зове наша химна?

4 Допуни реченицу:

Симболи сваке државе су: _____, _____ и _____.



РЕЉЕФ СРБИЈЕ



1 Испод слика напиши који су облици рељефа приказани.



2 Како се зове највећа равница у нашој земљи?

3 Заокружи слово испред тачног одговора.

Која планина се налази у Панонској низији?

- а) Авала
- б) Цер

- в) Фрушка гора
- г) Космај

4 Које пешчаре се налазе у Војводини?

5 Поред којих река се налазе следеће долине:

- Поморавље _____
- Подриње _____
- Мачва _____

6 Попуни табелу.

Тара, Златар,
Голија,
Златибор,
Авала, Космај,
Рудник,
Букуља

ниже планине	више планине

7 Највећа котлина у Србији је:



ВОДЕ У СРБИЈИ



1 Да поновимо. Попуни табелу.

ВОДЕ	
ТЕКУЋЕ	СТАЈАЋЕ

2 Стрелицама повежи речи и њихово објашњење.

РЕЧНА МРЕЖА	Све реке које се уливају у море.
РЕЧНИ СЛИВ	Све реке које теку на одређеној територији.
ТОК РЕКЕ	Територија са које се вода слива у реку, језеро или море.
МОРСКИ СЛИВ	Пут којим река тече од извора до ушћа.

3 Обој плочице на којима су написани називи река које припадају Црноморском сливу.

ЛЕПЕНИЦА	ДУНАВ	САВА	ТИСА
ВАРДАР	ДРИНА	ПЧИЊА	ИБАР

4 Зашто људи копају канале?

Најпознатији канал у Србији је:

5 Допуни реченицу:

Језера према настанку могу бити: _____ и _____.

6 Стрелицама повежи речи и њихово објашњење.

ПРИРОДНА ЈЕЗЕРА

Створио их је човек преграђивањем река.

ВЕШТАЧКА ЈЕЗЕРА

Настала су природним процесима.

7 У означен простор упиши каква су по настанку следећа језера.

ПАЛИЋКО ЈЕЗЕРО

ЂЕРДАПСКО ЈЕЗЕРО

ВЛАСИНСКО ЈЕЗЕРО

БОРСКО ЈЕЗЕРО

8 Заокружи слова испред тачних одговора.

Хидроелектране су саграђене на:

- а) Дунаву
- б) Дрини

- в) Тиси
- г) Тамишу

- в) Власини
- г) Сави

9 Реши ребусе.

П
Т
К

(потп)

ЈЕ



(језеро)

РЕ



(река)

10 Које су најпознатије бање у Србији?

Шта су бање?


Наброј неке од бања које знаш.

Зашто људи одлазе у бање?

11 Заокружи ДА ако је одговор тачан, односно НЕ ако одговор није тачан.

- На северу Србије има највише извора са топлем водом. ДА НЕ
- Поред извора лековитих вода саграђене су бање. ДА НЕ
- Минерална вода се флашира и пије. ДА НЕ
- Бање се налазе само на планинама. ДА НЕ

12 Препознај и напиши о којој бањи је реч.



Ова бања се налази на југу Србије, у близини града Лесковца.
Познати термоминерални извор зове се ГЕЈЗИР.
Овај извор јединствен је у Европи.