

РАДНИ ЛИСТОВИ ПРИРОДА И ДРУШТВО

ЗА ЧЕТВРТИ РАЗРЕД ОСНОВНЕ ШКОЛЕ

4

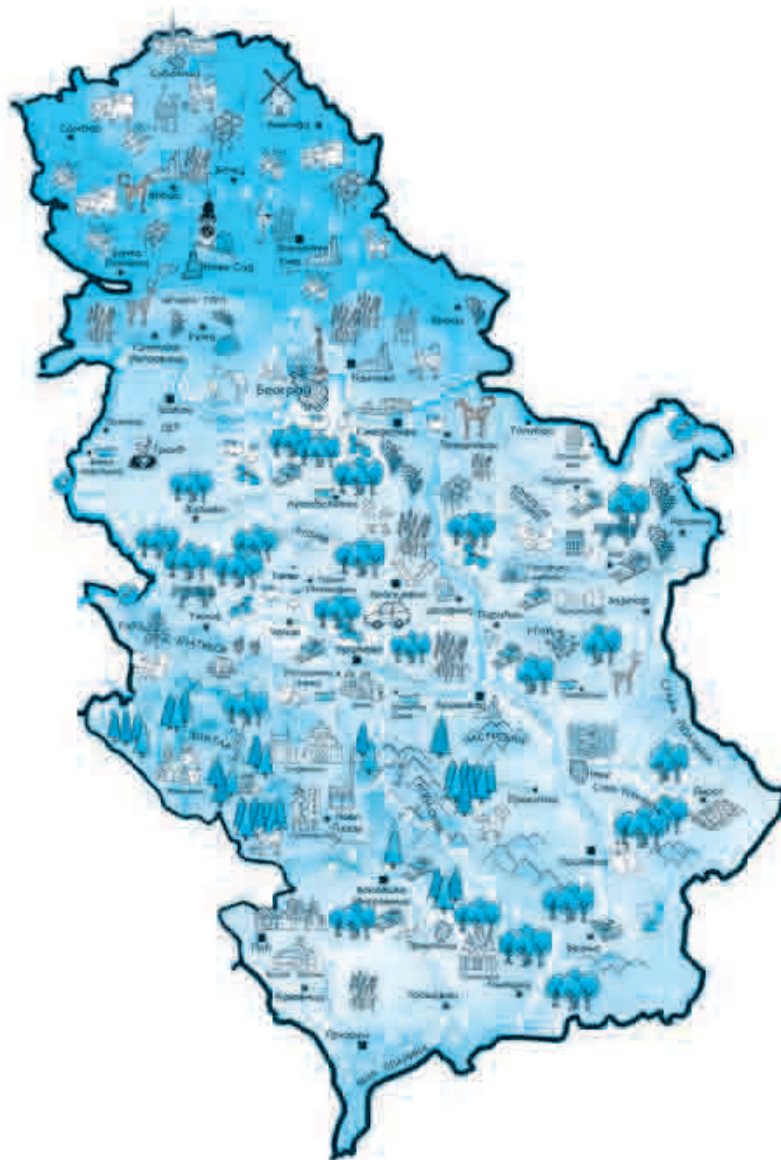


САДРЖАЈ

Србија - моја домовина.....	2
Симболи Републике Србије.....	4
Београд - главни град Србије.....	5
Рељеф - изглед наше домовине	6
Воде Србије	8
Бање Србије.....	10
Клима.....	11
Национални паркови	12
Резервати и споменици природе.....	13
Становништво	14
Ми смо деца једног света.....	15
Флора и фауна наше земље	16
Прилагођавање биљака и животиња променама у природи	18
Природна богатства	20
Од сировине до производа	21
Материјали.....	22
Смеше	24
Кретање	25
Природне сировине.....	26
Горива.....	28
Извори енергије	30
Делатности људи у равничарским крајевима	32
Делатности људи у планинским крајевима.....	33
Трагови прошлости	34
Србија у доба Немањића.....	35
Турци на Балканском полуострву	37
Живот Срба у Турском и Аустријском царству	38
Борба српског народа за ослобођење од Турака	39
Живот у Србији некада	41
Србија у XX веку	43

РАДНИ ЛИСТОВИ ПРИРОДА И ДРУШТВО

ЗА ЧЕТВРТИ РАЗРЕД ОСНОВНЕ ШКОЛЕ



СРБИЈА - МОЈА ДОМОВИНА

1. Напиши пун назив своје домовине.

2. Допуни реченице.

• Оријентисати се на географској карти значи одредити на њој _____
_____. На географској карти горња страна увек показује
_____, доња _____, десно је _____, а
_____ је лево.

3. Повежи линијама речи које дају тачне тврдње.

Моја домовина припада •

- Медитерану
- Балканском полуострву
- Африци
- Европи

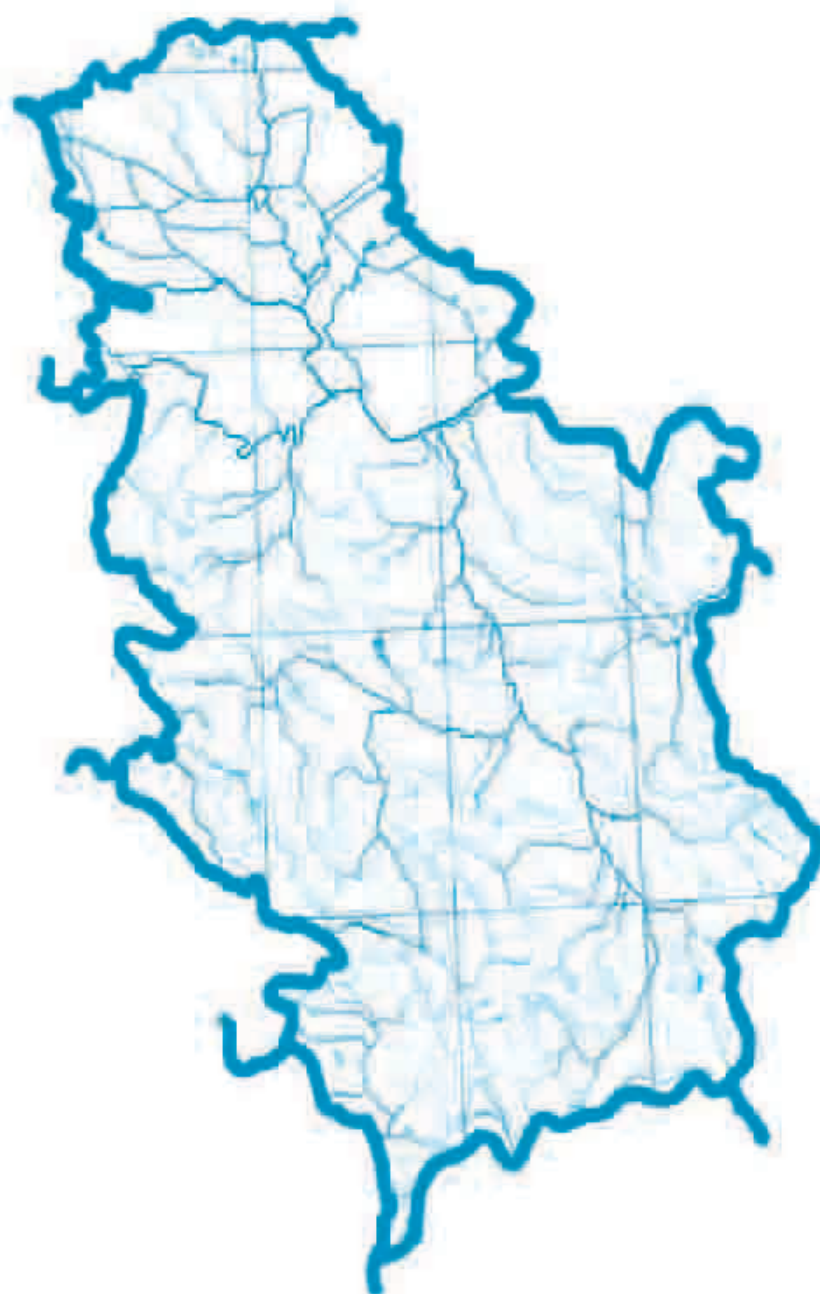
4. Због чега кажемо да наша домовина има повољан географски положај?

5. Шта има свака држава?

6. Допуни реченицу.

Кроз нашу државу тече велика европска река _____.

7. Напиши називе држава са којима граничи твоја домовина.



8. Поред тачне тврдње напиши ДА, а поред нетачне НЕ.

- Територија Србије је омеђена утврђеном границом. _____
- Најдужу границу Србија има према Мађарској. _____
- На географској карти границе су обележене одговарајућим картографским знацима. _____

СИМБОЛИ РЕПУБЛИКЕ СРБИЈЕ

1. Подвуци речи које представљају симболе једне државе.

застава

народ

химна

главни град

границе

грб

2. Опиши и обој заставу своје домовине.

3. Наведи када се истиче застава.

4. Кад се застава спушта на пола копља?

5. Шта представља грб неке државе?

6. Шта је државна химна?

7. Напиши назив химне Републике Србије.

8. Кад се изводи химна?

9. Напиши правила понашања при извођењу химне.

БЕОГРАД - ГЛАВНИ ГРАД СРБИЈЕ

1. Допуни реченице.

Главни град моје домовине је _____.

Београд се налази на ушћу _____ у _____.

2. Објасни због чега је Београд често био изложен разним освајачким походима.

3. Наведи најзначајније објекте и институције које се налазе у Београду.

4. Спој линијом сваку сличицу са одговарајућим речима.



Бели двор



Храм Светог Саве



Народно позориште

Народна скупштина

Стари двор

Народна библиотека



РЕЉЕФ - ИЗГЛЕД НАШЕ ДОМОВИНЕ

- 1.** Помоћу картографских боја представи рељеф наше домовине.

* Поред назива планине напиши број којим је обележена на немој карти.

Тара _____

Копаоник _____

Златибор _____

Стара планина _____

* Заокружи ДА или НЕ.

Планине високе од 1 000 до 2 000 метара надморске висине су богате рудама, шумом и пашњацима.

ДА НЕ



- 2.** На ком делу наше домовине се налази Панонска низија? Где се све простире?

- 3.** Како је Панонска низија повезана с планинском регијом?

- 4.** Како се назива најнижи део Панонске низије?

5. Шта су Банат, Бачка и Срем? Како су настали?

6. Најпознатије котлине су _____.

Најпознатије пешчаре су _____.

7. Шта је Мачва? Где се налази?

8. Који део обухвата Поморавље?

9. По чему се брдско-планински предели међусобно разликују?

10. По чему су познате наше планине?

ВОДЕ СРБИЈЕ

1. На некој карти наше домовине напиши имена река.



• Допуни реченице.

* Систем канала Дунав-Тиса-Дунав је изграђен у _____.

* Наша најдужа река је _____.

* Велика Морава настаје од _____ и _____.

* Ибар и Расина су притоке _____.

* Највећа река у источној Србији је _____.

2. По чему се међусобно разликују планинске и равничарске реке?

3. Која је наша најдужа река? Како је настала?

4. Спој линијом реке са одговарајућим сливом.

Дунав са притокама •

• Егејски сливи

Бели Дрим •

• Црноморски слив

Лепенац и Пчиња •

• Јадрански слив


5. По чему се језера међусобно разликују?

6. Шта су „горске очи“?

7. Наброј неколико вештачких језера.

8. Какве користи људи имају од река и језера?

9. Објасни шта је приказано на цртежу.



БАЊЕ СРБИЈЕ

1. Шта су бање? _____

2. По чему су познате наше бање?

3. Где се налазе бање? Спој линијом бању са одговарајућом планином.

- | | |
|-------------------|---------------------|
| Сокобања ● | ● Гољак |
| Врњачка бања ● | ● Суворор и Маљен |
| Матарушка бања ● | ● Гучево |
| Бања Врујци ● | ● Гоч |
| Бања Ковиљача ● | ● Столови и Чемерно |
| Сијеринска бања ● | ● Ртањ и Озрен |

4. Где се налази бања Русанда? По чему је позната?

5. Поред тачне тврдње напиши ДА, а поред нетачне НЕ.

Матарушка бања се налази на десној обали реке Ибра. _____

Сијеринска бања се налази на северном делу Србије. _____

Врњачка бања обилује топлим и хладним минералним водама. _____

Бања Кањижа се налази на југу Србије. _____

1. На основу чега се одређује клима неког краја?

2. Шта све зависи од климатских услова?

3. Колико климатских области постоји у нашој земљи? Наведи их.

4. Каква клима влада у Панонској низији?

5. Наведи карактеристике континенталне климе.

6. Наведи одлике планинске климе.

7. Шта је ружа ветрова? Како настају ваздушне бање?

НАЦИОНАЛНИ ПАРКОВИ

1. Шта представљају национални паркови?

2. Поред сваког броја напиши назив националног парка.



1 _____
2 _____
3 _____
4 _____
5 _____

3. Напиши шта је приказано на фотографији.



4. Спој линијом назив националног парка са делом Србије у којем се налази.

- | | |
|---------------|----------------------------|
| • Копаоник | • крајњи југ Србије |
| • Тара | • централни део Србије |
| • Фрушка гора | • крајњи запад Србије |
| • Шар-планина | • североисточни део Србије |
| • Ђердап | • Војводина |

5. По чему су познати национални паркови?

КОПАОНИК _____

ЂЕРДАП _____

ТАРА _____

ШАР-ПЛАНИНА _____

РЕЗЕРВАТИ И СПОМЕНИЦИ ПРИРОДЕ

1. Шта су резервати природе?

2. По чему је познат резерват природе „Засавица“?



3. Наведи неке резервате природе.

4. Шта су споменици природе?

5. На основу сличица препознај споменике природе. Поред сваке сличице напиши шта знаш о том споменику.







СТАНОВНИШТВО

1. Ко чини становништво једне земље?

2. Где је највећа густина насељености у Србији? Зашто?

3. Већинско становништво Србије чине _____.

4. Наброј све народе који живе у Србији.

5. По чему се народи Србије међусобно разликују?

6. Наведи права и обавезе становништва Србије.

Права: _____

Обавезе: _____

МИ СМО ДЕЦА ЈЕДНОГ СВЕТА

1. Шта представљају дате сличице? Објасни њихово значење.







ФЛОРА И ФАУНА НАШЕ ЗЕМЉЕ

1. Допуни реченице.

Флору Србије чине _____.

Фауну Србије чине _____.

2. Наведи заједничке особине свих биљака.

3. По чему се биљке међусобно разликују?

4. Шта су самоникле биљке? По чему се оне разликују од гајених биљака?

5. Напиши какве користи имамо од биљака.

6. Ендемске биљке су _____.

7. Наброј неколико ендемских биљака које су законом заштићене.

8. По чему се животиње међусобно разликују?

9. Како су настале домаће животиње?

10. Попуни табелу.

животиња	користи које имамо од домаћих животиња
крава	
овца	
свиња	
живина	

11. Напиши шта знаш о дивљим животињама.

12. Заокружи слово поред тачне тврдње.

Дивље животиње су:

а) штетне

б) штетне и корисне

в) корисне

Леж се брани од непријатеља тако што:

а) побегне

б) напада

в) склупча се

13. Наброј неколико најугроженијих животиња наших крајева.

ПРИЛАГОЂАВАЊЕ БИЉАКА И ЖИВОТИЊА променама у природи

1. Допуни реченицу.

За правилан раст и развој биљака и животиња потребни су _____
_____.

2. Заокружи ДА или НЕ.

Биљке и животиње се прилагођавају променама у природи. ДА НЕ

3. Како промена годишњих доба утиче на биљке?
Објасни на примеру једне биљке.

јесен



зима



пролеће



зима



4. Објасни како промена годишњих доба утиче на животиње.



5. Заокружи имена птица селица.

врана

врабац

голуб

кукавица

ласта

рода

сврака

6. Шта је лињање?

7. Како се поједине животиње штите од својих непријатеља?

8. Које животиње имају оштре зубе и канџе? Шта им такви зуби и канџе омогућавају?

ПРИРОДНА БОГАТСТВА

1. Наброј природна богатства своје домовине.

2. Објасни како човек користи природна богатства.

Шуме


Реке

Рудна богатства

3. Шта може да се деси прекомерним коришћењем природних богатстава?
Наведи један пример.

4. Која су природна богатства необновљива? Наведи их.

5. Објасни значење датог знака.



МАТЕРИЈАЛИ

1. Наброј неке материјале.

2. Материјали се међусобно разликују по:

3. Заокружи ДА или НЕ.

У природи постоји велик број материјала који се мењају под утицајем топлоте, ваздуха и воде. Промене материјала могу бити повратне и неповратне. ДА НЕ

4. За које промене материјала кажемо да су повратне? Наведи бар два примера.

5. Промене којима мењамо облик материјала, али не и његов састав називамо _____ променама.

6. Заокружи називе материјала који се у ватри трајно промене.

метал

дрво

камен

вода

гвожђе

папир

Дрво и папир се сагоревањем претварају у _____.

7. Заокружи ДА или НЕ.

Неповратне промене материјала доводе до настанка других материјала који немају исте особине као почетни материјал. ДА НЕ

8. Кад се појављује рђа на неком металном предмету?

9. На шта те упозорава дати знак?



10. Зашто је овакав знак истакнут на свакој бензинској пумпи?



11. Наведи материјале који су растворљиви у води.

12. Поред тачне тврдње напиши ДА, а поред нетачне НЕ.

Сви материјали се могу наелектрисати. _____

Метални предмети се могу намагнетисати и тако намагнетисани привлаче друге металне предмете. _____

Различити материјали једнако реагују када се излажу топлоти. _____

Дрвени предмети се могу наелектрисати вуненом тканином. _____

Пластика, папир и стакло се не могу намагнетисати. _____

Сви материјали су добри проводници електричне струје. _____

13. Нацртај и обој неколико одевних предмета који су израђени од различитих материјала. Напиши назив предмета и материјала од којег је израђен.

цртеж

СМЕШЕ

1. Шта су смеше?

2. Заокружи ДА или НЕ.

Храна коју једемо је смеша различитих намирница. ДА НЕ

3. Палачинка је смеша _____.

Сок је смеша _____.

4. Објасни на које се све начине могу издвојити састојци из смеше.

5. Како се из смеше воде и соли може издвојити со? Објасни.

6. Наведи по један пример издајања састојака из смеше, помоћу:

просејавања _____

цеђења _____

испаравања _____

1. Шта називамо кретањем?

2. Допуни реченице.

Сва кретања почињу _____, а прекидају се _____.


Да би се неки предмет покренуо потребно је _____.

3. Шта утиче на брзину кретања?

4. Наведи од чега све зависи брзина скијања.



5. Од чега зависи пређено растојање неког тела?



6. Заокружи ДА или НЕ.

Пређено растојање неког тела у кретању зависи од подлоге, величине тела и снаге којом је тело покренуто. ДА НЕ

Ако истовремено бацимо увис гумену лоптицу и пингпонг лоптицу исте величине, оне ће падати истом брзином. ДА НЕ

Предмети које бацимо или испустимо из руке увек падају наниже. ДА НЕ

ПРИРОДНЕ СИРОВИНЕ

1. Наброј природне сировине.

2. Где се у природи налази со?

3. Наведи особине кухињске соли.

4. Где се употребљава кухињска со?

5. Шта је гипс?

6. За шта се користи гипс?

7. Мермер је _____.

8. Где мермер има највећу примену?

9. Где се налазе руде?


10. Објасни како се добијају метали.

11. Наброј неколико метала. Наведи њихове особине.

12. Од чега се производи папир?

13. Шта је рециклирање?

14. Како се добија гума? Објасни поступак.



15. Поред тачне тврдње напиши ДА, а поред нетачне НЕ.

Со је најраспрострањенији минерал. _____

Мермер је врста гипса. _____

Целулоза је основна сировина за производњу папира. _____

Метали се добијају из разних руда. _____

Каучук је други назив за гуму. _____

Вештачка гума се добија прерадом нафте. _____

ГОРИВА

1. Допуни реченице.

За стварање топлотне енергије људи употребљавају _____.

По начину постанка деле се на _____ и _____.

2. Према чему се одређује вредност горива?

3. Заокружи ДА или НЕ.

Горива могу бити чврста, течна и гасовита. ДА НЕ

4. Наведи чврста горива.

5. Напиши шта знаш о дрвету као гориву.

6. Објасни како је настао угаљ.

7. Најквалитетнији природни угаљ је _____.

8. Шта је нафта? Објасни како је настала нафта.

9. Наведи производе који се добијају прерадом нафте.

10. Шта је земни гас?

11. Заокружи ДА или не.

Земни гас се појављује на нафтним бушотинама. ДА НЕ

12. Како се земни гас доводи до насеља и фабрика? За шта се све употребљава?

13. Поред тачне тврдње напиши ДА, а поред нетачне НЕ.

Највећа налазишта нафте код нас се налазе у Панонској низији. _____

У природи постоји једна врста угља. _____

Рафинерије су фабрике у којима се прерађује нафта. _____

Вештачка гума се добија прерадом лож-уља. _____

Нафта се налази дубоко под земљом. _____

Земни гас има високу топлотну вредност и при сагоревању не оставља отпатке. _____

ИЗВОРИ ЕНЕРГИЈЕ

1. Наброј изворе енергије.

2. По чему се извори енергије међусобно разликују?

3. Еколошки извори енергије су _____

4. Заокружи ДА или НЕ.

Еколошки извори енергије се могу потрошити.

ДА НЕ

У крајевима где дувају снажни ветрови, модерне ветрењаче претварају енергију ветра у струју.

ДА НЕ

5. Који се извори енергије највише користе?

6. Које све изворе енергије људи користе за загревање просторија?

7. Који се извори енергије најмање користе?


8. Наведи изворе енергије који највише загађују животну средину.

9. Зашто се неки извори енергије називају еколошки?

Напиши шта ти можеш да урадиш да би се потрошња енергије у твојој кући или стану смањила.

- * _____
- * _____
- * _____
- * _____
- * _____
- * _____
- * _____
- * _____
- * _____
- * _____
- * _____
- * _____
- * _____
- * _____
- * _____

Прочитај неколико пута текст под називом „Размишљања о енергији” који се налази у твом уџбенику „Моја домовина” и напиши шта си ново сазнао/ла. Неки део можеш и да илуструјеш.



ДЕЛАТНОСТИ ЉУДИ У РАВНИЧАРСКИМ КРАЈЕВИМА

1. Који део Србије заузимају равничарски крајеви?

2. Где се налазе највеће обрадиве површине земљишта? Зашто?

3. Наведи послове које обављају становници равничарских крајева.

4. Наброј врсте биљака које се гаје у Панонској низији.

5. Зашто је у равничарским крајевима развијена прехранбена индустрија?



6. Заокружи слово поред тачне тврдње.

Најпогоднији крајеви за узгој плантажних винограда и воћњака су:

а) равнице

б) обронци ниских планина

в) долине река

7. Напиши назив поврћа по којем су познати Лесковачка котлина и околина Хоргоша.

ДЕЛАТНОСТИ ЉУДИ У ПЛАНИНСКИМ КРАЈЕВИМА

1. Који део наше домовине обухватају брдско-планински предели?

2. Наброј природна богатства планинских предела.

3. Опиши природне услове који отежавају живот и рад људи у планинским крајевима.

4. Које је главно занимање становника брдско-планинских предела?

5. Зашто сточари одлазе на планинске пашњаке?

6. Шта су катуни?

7. Опиши живот сточара.





8. Наведи производе који се добијају индустријском прерадом коже, меса и млека домаћих животиња.

ПРОИЗВОДИ СУ: _____

ТРАГОВИ ПРОШЛОСТИ

1. Шта је прошлост? _____

2. На основу чега сазнајемо о животу људи у прошлости? _____

3. Како ти можеш упознати прошлост? _____

4. Напиши назив науке која проучава прошлост људског друштва. _____

5. Опиши како је живео пећински човек.



6. Објасни како се живот људи мењао од пећинског човека до данас. Наведи најзначајнија открића.

7. Поред тачне тврдње напиши ДА, а поред нетачне НЕ.

Вук Караџић је рођен у 17. веку. _____

Доситеј Обрадовић је рођен у 18. веку. _____

Никола Тесла је рођен у 19. веку. _____

Миленијум је временски период од хиљаду година. _____

СРБИЈА У ДОБА НЕМАЊИЋА

1. У ком веку су Јужни Словени населили Балканско полуострво?

2. Допуни реченицу.

На Балканском полуострву наши преци су основали _____

3. Наведи назив најпознатије српске области у средњем веку.

4. У ком веку почиње успон српске државе? Који је простор тада заузимала?

5. Спој линијом име владара са његовом титулом.

Стефан Немањић •

• краљ

Урош Немањић (13. век) •

• први српски цар

Стефан Душан •

• први српски краљ

6. Опиши живот и рад Стефана Немање.

7. Ко је био Растко Немањић - Свети Сава? По чему је познат?

8. Објасни како је Стефан Немањић добио назив Првовенчани.

9. По чему је познат Стефан Душан Немањић?

10. Ко је наследио цара Душана? Шта се тада десило?

11. Поред тачне тврдње напиши ДА, а поред нетачне НЕ.

Србија је 1217. године постала краљевина. _____

Жича је задужбина Растка Немањића. _____

Српско царство се 1371. године распало на више области. _____

Први српски краљ је био Стефан Немањић Првовенчани. _____

Први новац са ликом краља Уроша се појавио у 12. веку. _____

Свети Сава је празник који се обележава 27. јануара. _____

12. На траци времена обележи векове у којима су владали Немањићи.



13. На основу слике напиши назив манастира. Чија је то задужбина?



ТУРЦИ НА БАЛКАНСКОМ ПОЛУОСТРВУ

1. Допуни реченице.

Српско царство је престало да постоји _____ године. Породица _____ више није владала Србијом. Царство се распало на више области, међу којима је најпознатија била област кнеза _____. Звала се _____.
(име владара)

2. У ком веку су Турци кренули у освајање Балканског полуострва и Европе? Одакле су дошли?

3. Опиши шта се догодило 28. јуна 1389. године.

4. Почетком 15. века српска држава је доживела нови успон. Наведи титулу и име владара за време кога Србија доживљава успон.

5. Наведи престонице Србије у време владара:

- деспота Стефана Лазаревића _____
- деспота Ђурађа Бранковића _____

6. Освајањем града _____, Турци су освојили Србију.

7. Заокружи ДА или НЕ.

Србија и српски народ су постали део Турског царства половином 15. века, 1459. године.

ДА НЕ

ЖИВОТ СРБА У ТУРСКОМ И АУСТРИЈСКОМ ЦАРСТВУ

1. Опиши живот нашег народа под турском влашћу.

2. Објасни како су Срби пружали отпор турској власти.

3. Кад је била највећа сеоба Срба? Због чега су се селили?

4. По чему је познат патријарх Арсеније Чарнојевић?

5. Опиши живот Срба у Аустријском царству.

6. Поред тачне тврдње напиши ДА, а поред нетачне НЕ.


Највећа сеоба Срба је била крајем 16. века. _____

У току сеобе под вођством Арсеније Чарнојевића, Срби су населили област данашње Војводине и Мађарске. _____

Центри српске културе у Аустријском царству су били: Сремски Карловци, Нови Сад, Сент Андреја и манастири на Фрушкој гори. _____

БОРБА СРПСКОГ НАРОДА ЗА ОСЛОБОЂЕЊЕ ОД ТУРАКА

1. На траци времена обележи бојом период борбе Срба за ослобађање од Турака.



2. Спој линијом устанак са годином, местом и војсковођом.

- | | | |
|----------------|--------------------------|-------------------|
| Таково • | • Први српски устанак • | • Ђорђе Петровић |
| 1804. година • | • Други српски устанак • | • 1815. година |
| Орашац • | | • Милош Обреновић |

3. Опиши Први српски устанак.

4. Због чега се Доситеј Обрадовић и Вук Караџић сматрају великанима наше културе?

5. За време ког владара је Србија постала самостална кнежевина у оквиру Турског царства? Објасни тадашња дешавања.

6. По чему је значајна 1867. година за српски народ?

7. Опиши како се Србија развијала за време владавине Михаила Обреновића.

8. Кад је Србија постала самостална држава? Наведи име владара.

9. Поред тачне тврдње напиши ДА, а поред нетачне НЕ.

За време Првог српског устанка Доситеј Обрадовић је био министар туризма. _____

Србија је почетком 18. века постала самостална кнежевина у оквиру Турског царства. _____

Милан Обреновић је био први српски краљ у модерној историји Срба. _____

Турски заповедник је 1867. године предао кључеве града Београда кнезу Милошу Обреновићу. _____

Србија је постала краљевина 1882. године. _____

ЖИВОТ У СРБИЈИ НЕКАДА

1. Опиши како је било некада.

* Изглед градова: _____



* Зграде у којима су живели владари и богаташи: _____

* Одећа, посуђе и исхрана владара и богаташа: _____

* Сеоско насеље: _____



* Одећа, посуђе и исхрана сеоског домаћинства: _____

2. Наведи послове које су обављали богати људи? Чиме су се бавила њихова деца?

3. Чиме су се бавили чланови сеоског домаћинства?

Жене _____

Мушкарци _____

Деца _____

1. Допуни реченице.

Породица Обреновић је владала Србијом до _____.
(напиши годину)

Породицу Обреновић наслеђује породица _____.
(напиши презиме)

2. Шта се дешавало током владавине Петра Првог Карађорђевића?

3. Заокружи ДА или НЕ.

Балканским ратовима је завршена борба српског народа за ослобођење од Турака. ДА НЕ

4. Заокружи слово поред тачне тврдње.

Повод за почетак Првог светског рата био је:

а) **Церска битка** б) **Балкански ратови** в) **убиство Франца Фердинанда**

5. Допуни реченице.

Аустроугарска је објавила рат _____. На страну Србије стале су државе _____, _____ и _____.

6. Кад је завршен Први светски рат? Наведи победнике.

7. Ко су били Степа Степановић и Живојин Мишић? По чему су познати?

8. Ко је предводио српску војску крајем 1915. године? Опиши шта се тада дешавало са српском војском.

9. Спој линијом годину са називом државе.

1918. година ●

● Краљевина Југославија

1929. година ●

● Краљевина Срба, Хрвата и Словенаца

10. Кад је почео Други светски рат? Наведи земље које су га започеле.

11. Шта је било 6. априла 1941. године?

12. Како је завршен Други светски рат?

13. Шта се слави 9. маја?

14. Допуни реченице.

По завршетку Другог светског рата Југославија је проглашена

(напиши назив)

Председник те државе је био _____.

15. Шта се десило са Југославијом у последњој деценији 20. века?

16. Наведи наше великане који су обележили 20. век.

Научници: _____

Писци: _____

Сликари: _____

РАДНИ ЛИСТОВИ ИЗ ПРИРОДЕ И ДРУШТВА ЗА ЧЕТВРТИ РАЗРЕД ОСНОВНЕ ШКОЛЕ

Прво издање
2009. година

Ауторски тим НОВЕ ШКОЛЕ
Милица Ћук
Гордана Стевановић

Ликовно-графичка опрема
Марија Граховац

Рецензенти:
проф. др Јово Малешевић, Педагошки факултет у Сомбору
Бранкица Лазивић, учитељица, ОШ „Павле Савић“ у Београду
Весна Радонић, педагог, ОШ „Краљ Петар Први“ у Београду

Уредница:
Драгана Ћук

Издавач:
НОВА ШКОЛА д.о.о
Београд, Господар Јованова 22
Тел/факс: 011 2631 652, 011 3284 989

Штампано у НРК

Тираж:
10 000

© Нова школа 2009. Сва права задржана.

ISBN 978-86-85307-38-6

CIP - Каталогизација у публикацији
Народна библиотека Србије, Београд

37.016:3/5(075:2)(076:1)

ЋУК, Милица

Радни листови природе и друштво : за четврти разред основне школе / [ауторски тим Милица Ћук, Гордана Стевановић]. - 1. изд. - Београд : Нова школа, 2008 (Кин). - 44 стр. : илустр. : 27 см.

Податак о ауторима преузет из колофона. - Тираж 10000. - Ств. насл. у колофону: Радни листови из природе и друштва.

ISBN 978-86-85307-38-6
1. Стевановић, Гордана [аутор]

COBISS.SR-ID 147874828

Министар просвете Републике Србије одобрио је издавање и употребу овог уџбеника у четвртом разреду основне школе решењем број 650-02-00250/2008-06/12 од 9. 6. 2008. године.

ISBN 978-86-85307-38-6



9 788685 307386